

# Unidad 2

## Encuentro entre dos mundos

### Actividad 2

#### Viajes de Exploración

# Contexto Europeo del siglo XV

## Político

Estados modernos

Corona Española y Portuguesa

## Económico

Reactivación comercio

Obtener recursos valiosos

## Geográfico

Búsqueda nuevas rutas comerciales a Oriente (Asia)

Expansión territorial

## Cultural

Nueva mentalidad

Avances técnicos en la navegación

## Social

Crecimiento de las ciudades

Surge la burguesía



Título  
¿?



Contenido  
Poco claro



Simbología

No tiene 

↑ Germanus, Nicolaus [1482 (siglo XV)]. Mapamundi ptolemaico. El mapa fue confeccionado a partir de los cálculos de Claudio Ptolomeo, astrónomo y geógrafo griego que vivió entre los años 90 y 170. Los estudios de Ptolomeo fueron una de las principales fuentes del conocimiento geográfico europeo durante el siglo XV.

Fuente/ Referencia:  
Germanus, Nicolaus  
(autor)

1482 (siglo XV)]  
(tiempo)

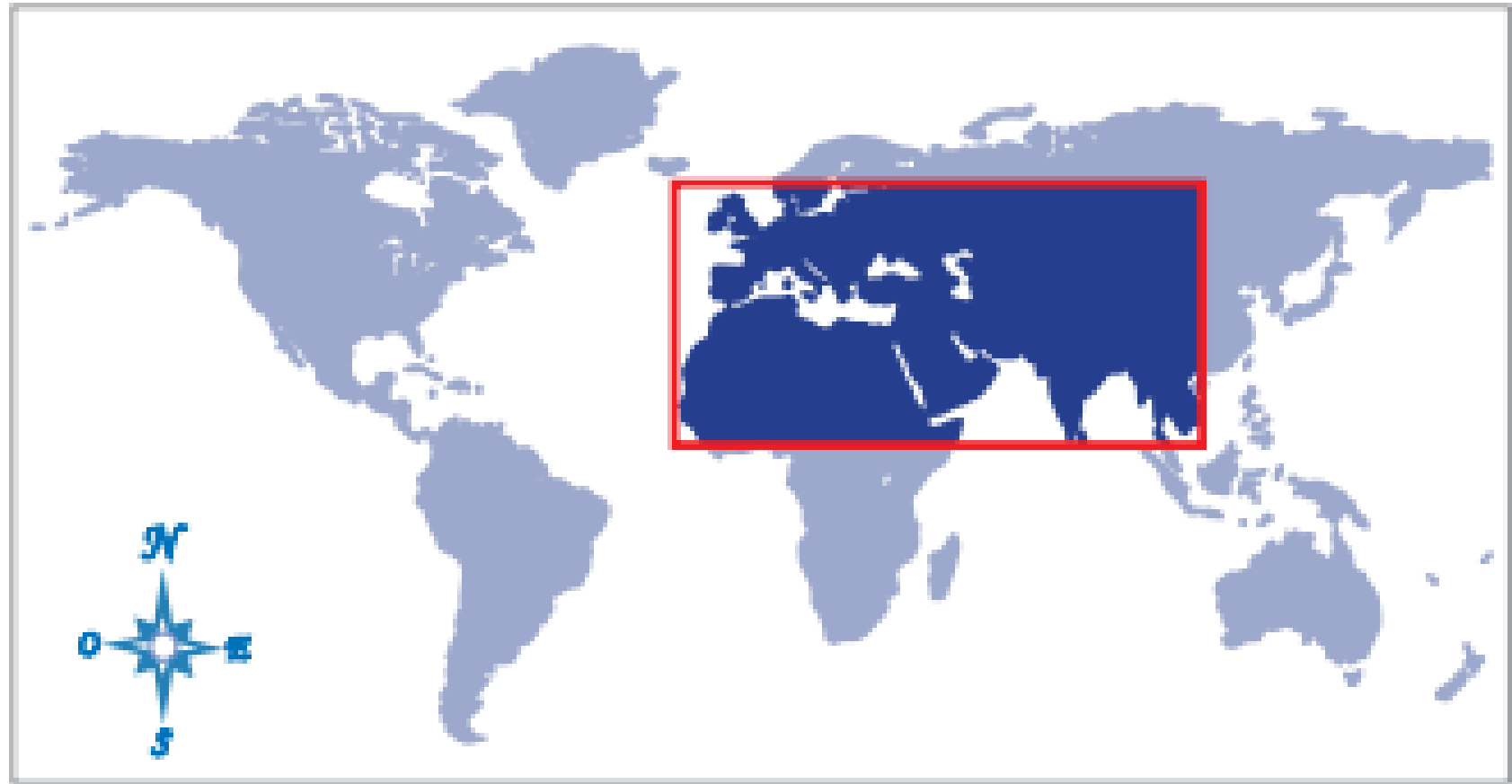
Mapamunndi ptolemaico  
(tema + lugar)



Título ❌  
¿?

Contenido  
Mapa del mundo  
Continentes

Simbología  
No tiene



↑ Zona aproximada de representación.

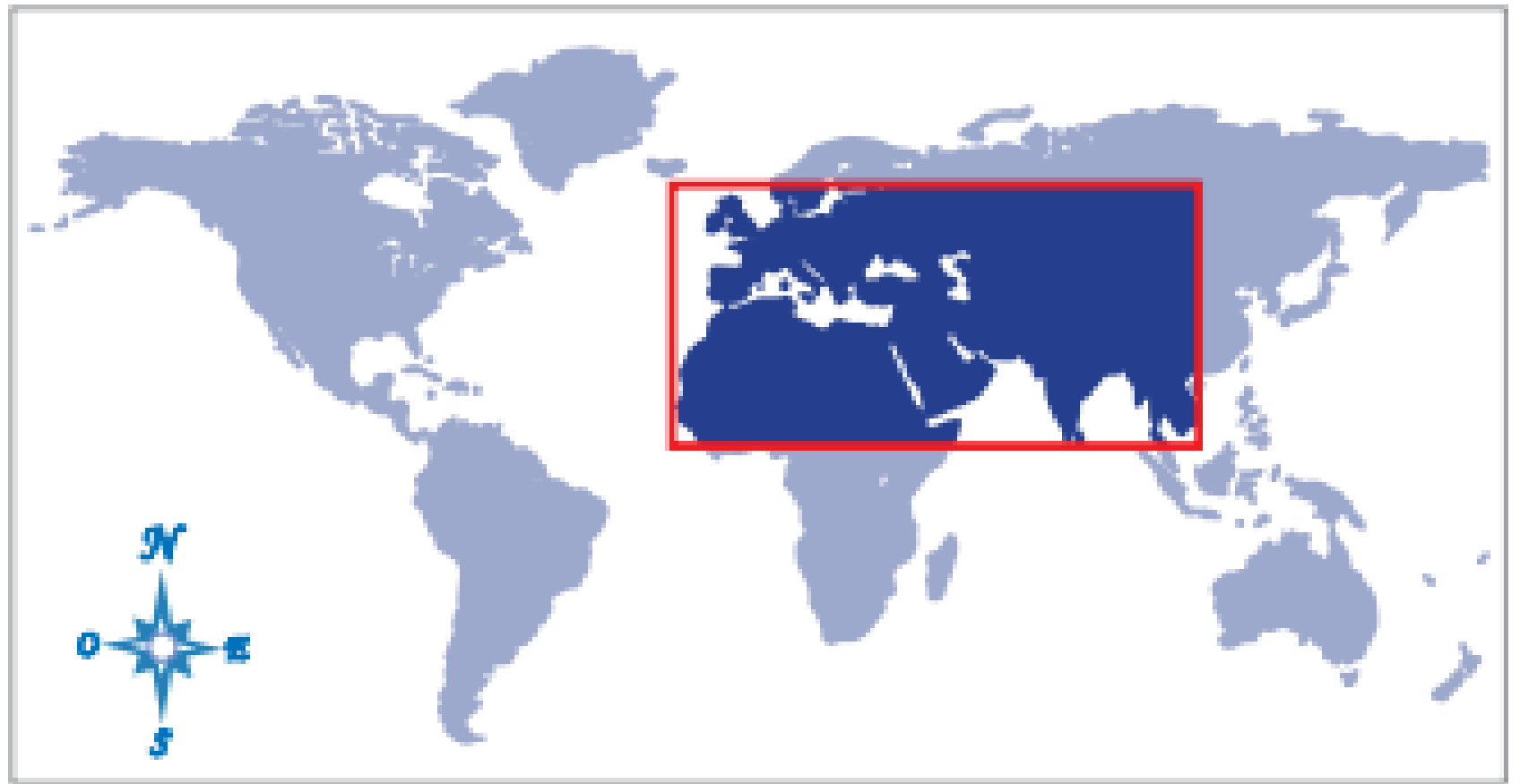
Fuente/Referencias  
Este mapa destaca el  
lugar representado  
en el mapa anterior



↑ Germanus, Nicolaus [1482 (siglo XV)]. *Mapamundi ptolemaico*. El mapa fue confeccionado a partir de los cálculos de Claudio Ptolomeo, astrónomo y geógrafo griego que vivió entre los años 90 y 170. Los estudios de Ptolomeo fueron una de las principales fuentes del conocimiento geográfico europeo durante el siglo XV.

Representa la información geográfica que tenían en esa época.

Con la información actual se identifica el área representada en el mapa anterior



↑ Zona aproximada de representación.

- no todos los mapas van a ser iguales, a algunos les pueden faltar partes.
- Si estamos atentos y seguimos los pasos, podemos interpretarlos igual!! Solo necesitamos buscar con atención las pistas

Bloqueo de las rutas  
comerciales hacia  
Oriente (Asia)

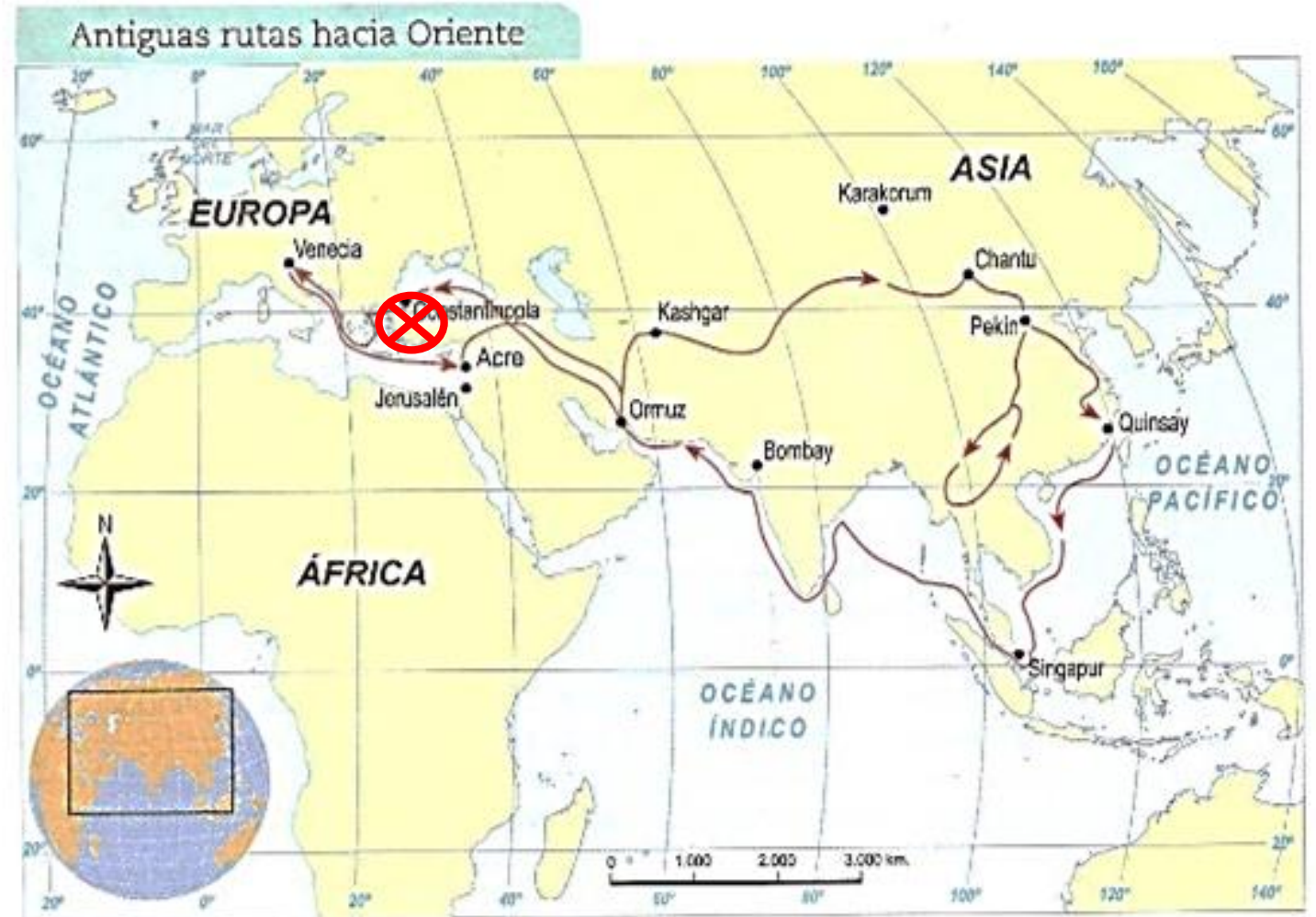


Necesidad de nuevas rutas  
comerciales

Para obtener recursos valiosos



Búsqueda de  
nuevas rutas



▲ Antiguas rutas comerciales hacia Oriente.

# Describir los viajes de exploración a través del uso de mapas

*Ya aprendimos a:*

Identificar las partes de un mapa

- Título
- Contenido
- Simbología



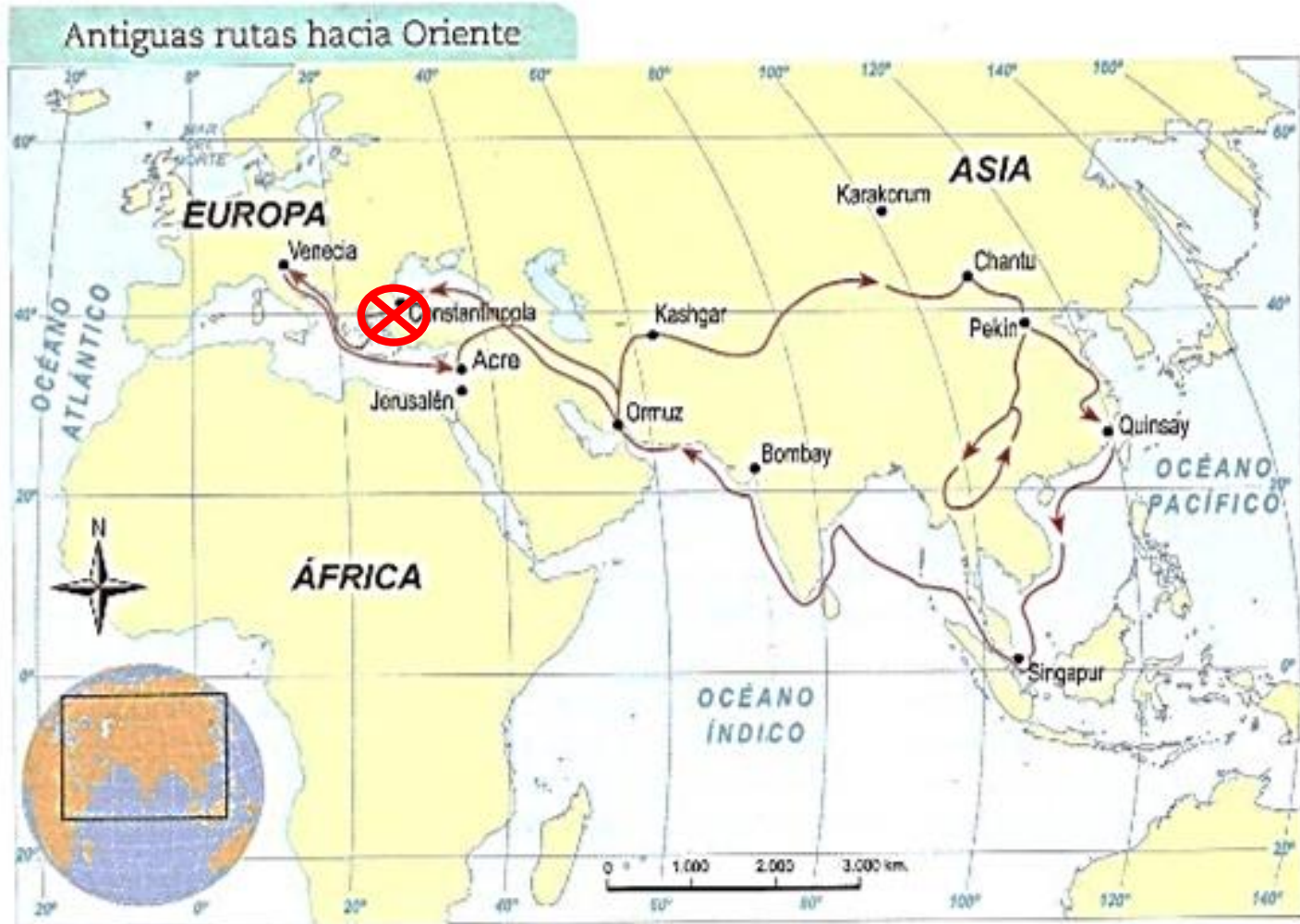
*Vamos a aprender a:*

Describir un mapa.

Para esto hay que considerar:

- Tema + tiempo + lugar.
- Puntos de referencia (continentes, océanos, rosa de los vientos).
- Símbolos y su significado





▲ Antiguas rutas comerciales hacia Oriente.

## Título:

Antiguas (tiempo)  
rutas (tema)  
hacia Oriente (Lugar)

## Simbología

No tiene, pero se puede inferir.

## Contenido:

Las rutas parten de Venecia  
Van hacia el Oriente  
Pasan por Constantinopla  
Ahí se dividen en unas que van  
hacia el nor – oriente y otras  
hacia el sur – oriente.  
Hay un símbolo rojo que  
representa el bloqueo entre  
Europa y Oriente.

# ¡Ahora te toca a ti!

*Sigue estos pasos*

1. Identifica las partes del mapa

2. Identifica la información del título del mapa:

tema + tiempo + lugar

3. Describe el contenido del mapa:

desde donde parten, por dónde se van, hacia donde llegan

4. ¿Qué ideas puedes concluir del mapa?

# Actividad: Interpretar la información de un mapa.

- Utilizando los mapas:
  - Viajes de exploración portugueses (mapa A de la pág.70)
  - Viajes de exploración españoles (mapa B de la pág.71)
- Identifica las partes del mapa: título – contenido – simbología. (Enciérralas en un círculo en el mismo mapa)
- Identifica la información del título del mapa: tema + tiempo + lugar (en tu cuaderno)
- Describe la información del contenido del mapa: nombra el lugar de partida, por donde se van, hacia donde llegan (en tu cuaderno)

- A partir de la información que puedas extraer de los mapas responde las siguientes preguntas:
  - a) ¿Qué territorios le corresponde explorar a España y a Portugal?
  - b) ¿Qué rutas utilizaron España y Portugal para sus viajes de exploración?